

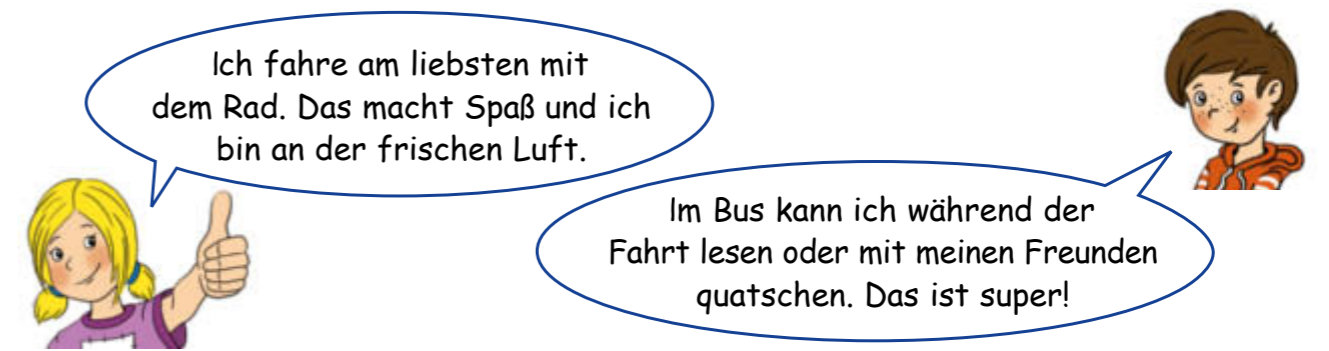
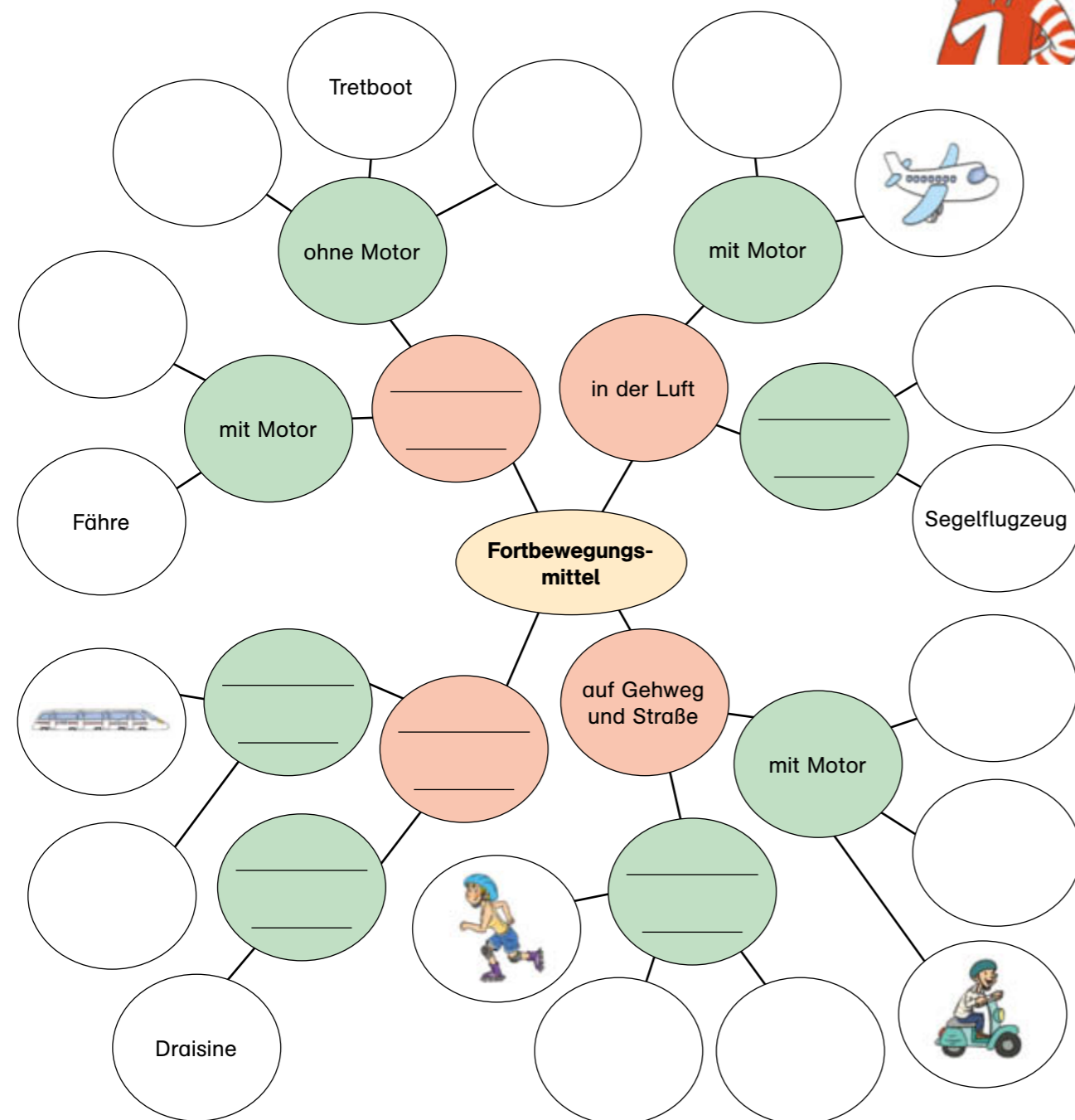
So ein Verkehr!

1. Vervollständige die Mindmap: Fülle die Schreiblinien. Male, schreibe und klebe vom Stickerbogen weitere Fortbewegungsmittel in die weißen Felder.

Es gibt viele unterschiedliche Fahrzeuge. Wo benutzt man sie? Wie werden sie angetrieben?



2. Welche Fortbewegungsmittel werden mithilfe von Muskelkraft angetrieben? Kreise sie rot ein.



3. Jede Fortbewegungsart hat Vorteile. Kreuze an.

an keine Zeiten gebunden	<input type="checkbox"/>	<input type="checkbox"/>	<input type="checkbox"/>	<input type="checkbox"/>
keine Kosten	<input type="checkbox"/>	<input type="checkbox"/>	<input type="checkbox"/>	<input type="checkbox"/>
keine Parkprobleme	<input type="checkbox"/>	<input type="checkbox"/>	<input type="checkbox"/>	<input type="checkbox"/>
hält dich fit	<input type="checkbox"/>	<input type="checkbox"/>	<input type="checkbox"/>	<input type="checkbox"/>
bequem bei schlechtem Wetter	<input type="checkbox"/>	<input type="checkbox"/>	<input type="checkbox"/>	<input type="checkbox"/>
keine Abgase	<input type="checkbox"/>	<input type="checkbox"/>	<input type="checkbox"/>	<input type="checkbox"/>

4. Was kann jeder tun, damit weniger Autos auf den Straßen unterwegs sind? Ergänze die fehlenden Begriffe.

Fahrgemeinschaften Freunden Rad Bahn

Kurze Strecken lassen sich zu Fuß, mit dem _____ oder dem Roller zurücklegen. Bei längeren Strecken kannst du mit dem Bus oder der _____ fahren. Manchmal muss man das Auto benutzen. Vielleicht darfst du bei _____ mitfahren? Bildet _____ !

Suche das Fortbewegungsmittel, das auf Bestellung bis zu vier Fahrgäste transportieren kann. Male sein Schild an.

Die Vorfahrt ist geregelt

Was bedeutet eigentlich Vorfahrt? Einer fährt vor und zeigt, wohin es geht?

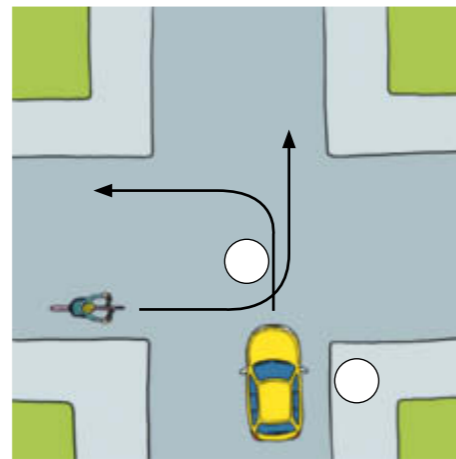
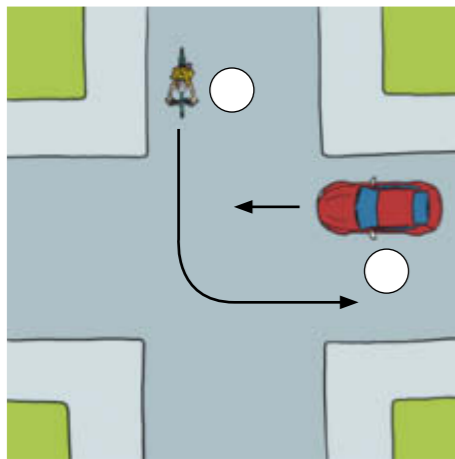


Stehen an einer Kreuzung Verkehrsschilder, die die Vorfahrt regeln, musst du dich an sie halten!

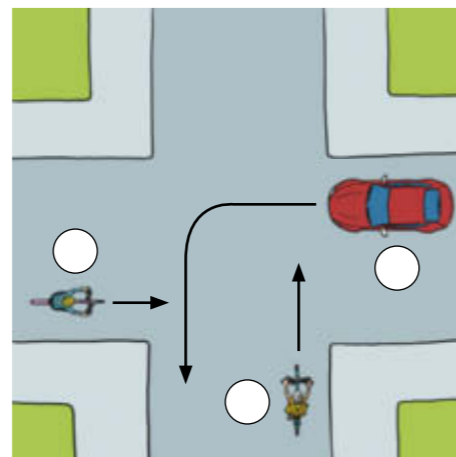
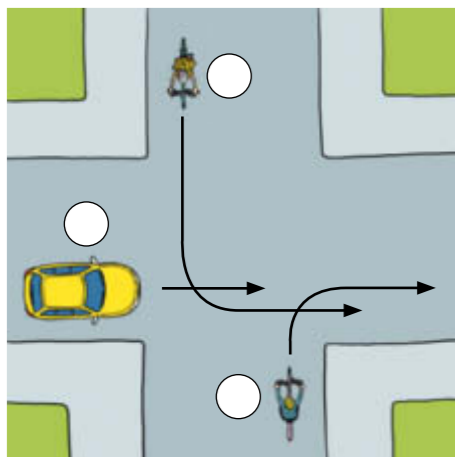


Erreichen mehrere Verkehrsteilnehmer gleichzeitig eine Kreuzung, ist geregelt, wer zuerst fahren darf. Gibt es keine Ampeln oder Verkehrsschilder, gilt immer die Regel „rechts vor links“. Das heißt: Wer von rechts kommt, hat Vorfahrt und darf zuerst fahren.

1. Wer hat hier Vorfahrt? Kreuze an.



2. Auch hier gilt rechts vor links. Nummeriere, wer jeweils als Erster, Zweiter und Dritter fahren darf.



3. Kennst du die Bedeutung der Schilder? Verbinde mit dem richtigen Text.

Vorfahrt: Die Vorfahrt gilt nur für die nächste Kreuzung oder Einmündung. Beachte, was an der darauffolgenden Kreuzung gilt.



Ende der Vorfahrtsstraße: Achte an der nächsten Kreuzung auf die geltende Vorfahrtsregelung.



Stoppschild: Halt! Vorfahrt gewähren! Halte immer an der Haltelinie an und stelle einen Fuß auf die Fahrbahn. Fahre erst weiter, wenn alles frei ist.



Vorfahrtsstraße: Du hast auf dieser Straße Vorfahrt, bis ein anderes Verkehrszeichen diese aufhebt. Der querende Verkehr muss warten und dir Vorrang gewähren.

Vorfahrt gewähren: Hier musst du warten, bis kein Verkehrsteilnehmer mehr von links oder rechts kommt. Fahre erst weiter, wenn alles frei ist.

4. Bei welchen Schildern oben hast du Vorfahrt? Male die Texte grün an.



Suche das Stoppschild und male es an.